

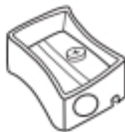
Uniți punctele pentru a completa desenul, apoi colorați.



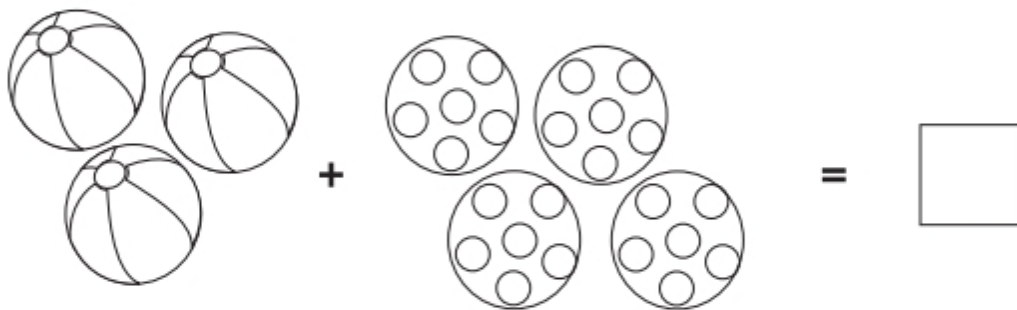


11

ÎNVĂȚĂM SĂ ADUNĂM

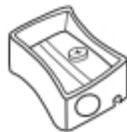


Rezolvați următoarele exerciții.





ÎNVĂȚĂM SĂ NUMĂRĂM 20




Numărați câte din categoriile specificate sub casete se afla în desen.

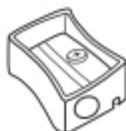
Fluturi

Ciuperci



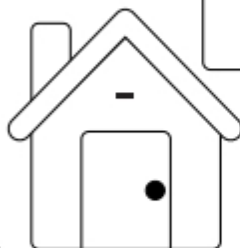
Cireșe

Păsărele





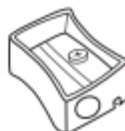
Rezolvați exercițiul și scrieți rezultatul în caseta liberă.





CODUL CULORILOR

40



Colorați desenul folosindu-vă de codurile date.

1 = Albastru deschis

5 = Portocaliu


2 = Verde deschis

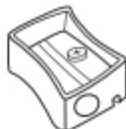
6 = Verde închis

3 = Maro

7 = Negru

4 = Roșu





Scriveți în pătrățelele alăturate câte triunghiuri, pătrate și cercuri cuprinde desenul mai jos. Apoi colorați desenul conform codurilor de culoare specificate.



Albastru
marin



Albastru
deschis



Violet



Gri



Negru




Portocaliu



Roșu



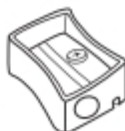
Verde





93

IDENTIFICAȚI-LE



Alegeți denumirile corecte ale imaginilor din caseta din stânga și completați literele lipsă.



R_Ș_I

P_S_C_

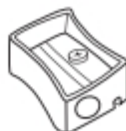
R_C

A_D_I

C_S_



97 MATEMATICA JUCĂRIILOR



Folosiți valoarea dată a jucăriilor, pentru a rezolva exercițiile.



2



3



4



5



6



+



=



+



=



+



=



+



=



+



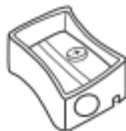
=





SĂ ADUNĂM ÎMPREUNĂ

102



Folosiți-vă de valoarea simbolurilor pentru a rezolva problemele.



1



2



3



4



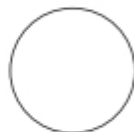
5



+



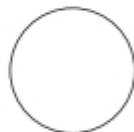
=



+



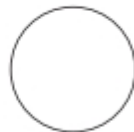
=



+



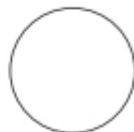
=



+



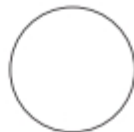
=



+

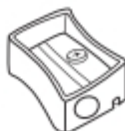


=





107

ORA EXACTĂ

Verificați dacă ora înscrisă în cerculețe este aceeași cu cea de pe cadranul ceasurilor.



3.00



5.30



1.00



11.00